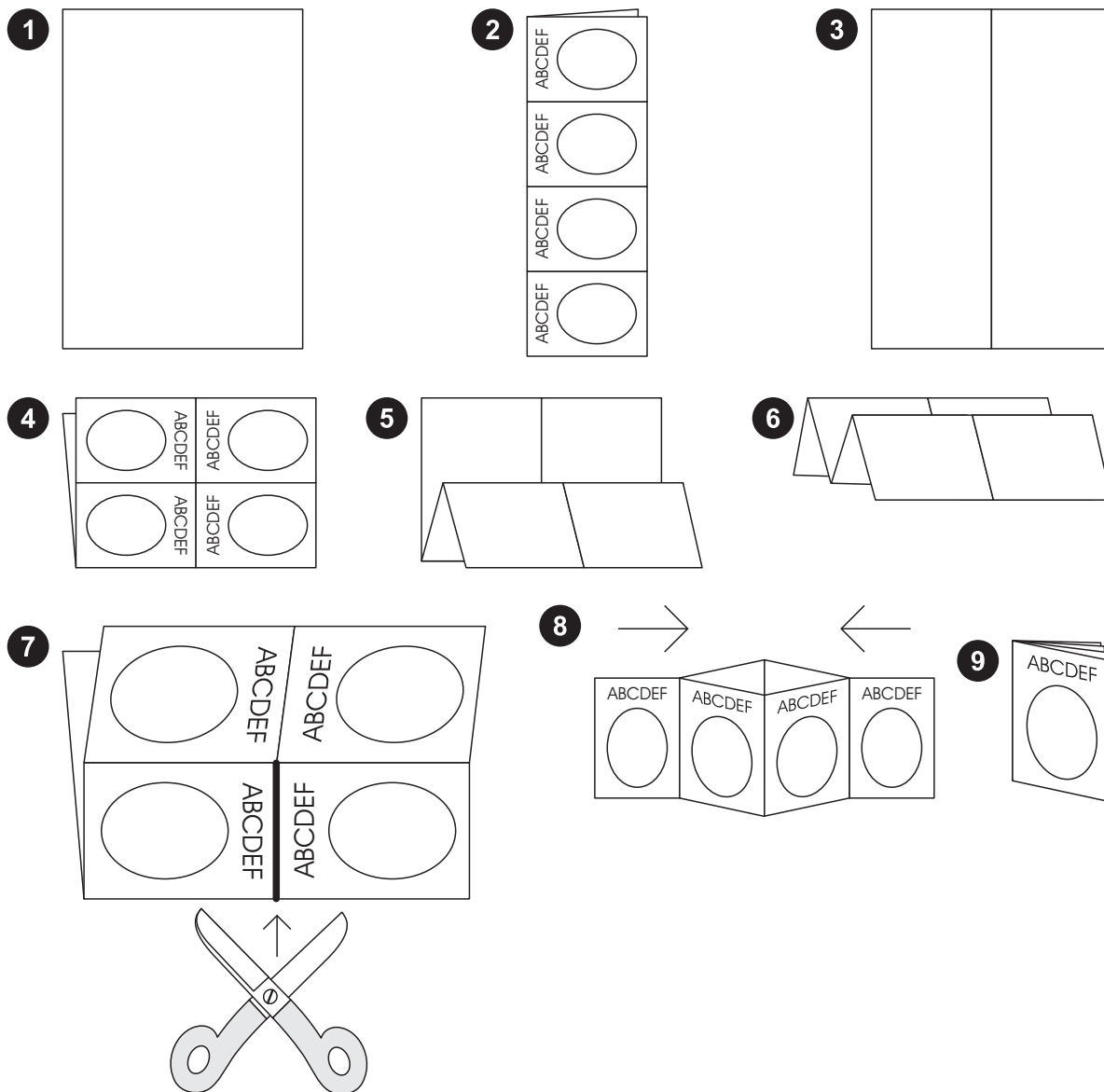


# Partnerhefte kleines 1:1

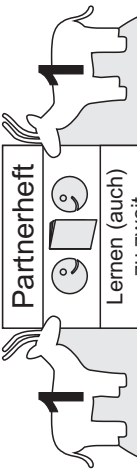
## Faltplan für die Partnerhefte

Die bedruckte Seite des Blattes wird auf den Tisch gelegt (1). Das Blatt wird einmal längs gefaltet (2), dann wieder aufgeklappt (3) und einmal quer gefaltet (4). Anschließend wird das Blatt zweimal an der Rückseite quer gefaltet (5 und 6). Danach wird mit einer Schere ein Schnitt von genau einer Feldbreite ausgeführt (7). Schließlich wird das Blatt an dieser Schnittkante auseinander gebogen, zusammengesoben (8) und die einzelnen Seiten zu einem Rätselbüchlein umgeklappt (9).



# A

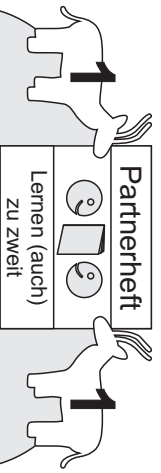
Lies die Aufgaben vor.  
 Partnerin die anderen 11 Aufgaben vorlesen.  
 dir dann von deinem Partner / deiner Partnerin die anderen 11 Aufgaben vorlesen.  
 anschließend das Heft um und lass  
 ihre Antworten richtig und falsch  
 / seine / ob er / ob sie  
 die 3 Aufgaben auf den 11 Seiten  
 Partnerin / Partner



1 Heft  
 2 je ein Partner  
 unzuverlässig

<b>A</b>	4 geteilt durch 2 ist wie viel?	2
<b>B</b>	16 geteilt durch 2 ist wie viel?	8
<b>C</b>	8 geteilt durch 2 ist wie viel?	4
<b>D</b>	20 geteilt durch 2 ist wie viel?	10

1a



Lies deinem Partner / deiner Partnerin  
 die 11 Aufgaben auf den folgenden  
 3 Seiten vor und überprüfe, ob seine /  
 ihre Antworten richtig sind. Drehe  
 anschließend das Heft um und lass  
 dir dann von deinem Partner / deiner  
 Partnerin die anderen 11 Aufgaben  
 vorlesen.

Teilaufgaben zum  
 Einmaleins der 2  
 Heft 1

# B

<b>E</b>	12 geteilt durch 2 ist wie viel?	6
<b>F</b>	0 geteilt durch 2 ist wie viel?	0
<b>G</b>	2 geteilt durch 2 ist wie viel?	1
<b>H</b>	18 geteilt durch 2 ist wie viel?	9

2a

<b>A</b>	0 geteilt durch 2 ist wie viel?	0
<b>B</b>	8 geteilt durch 2 ist wie viel?	4
<b>C</b>	4 geteilt durch 2 ist wie viel?	2
<b>D</b>	6 geteilt durch 2 ist wie viel?	3

1b

<b>I</b>	14 geteilt durch 2 ist wie viel?	7
<b>J</b>	10 geteilt durch 2 ist wie viel?	5
<b>K</b>	6 geteilt durch 2 ist wie viel?	3

3a

<b>E</b>	16 geteilt durch 2 ist wie viel?	8
<b>F</b>	12 geteilt durch 2 ist wie viel?	6
<b>G</b>	18 geteilt durch 2 ist wie viel?	9
<b>H</b>	2 geteilt durch 2 ist wie viel?	1

2b

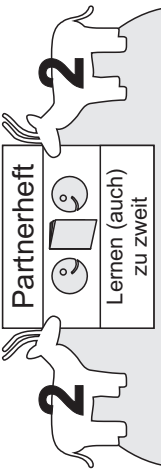
<b>I</b>	01 ist 2 durch geteilt wie viel?	<b>J</b>
<b>J</b>	2 ist 2 durch geteilt wie viel?	<b>K</b>
<b>K</b>	9 ist 2 durch geteilt wie viel?	<b>L</b>

3c

# A

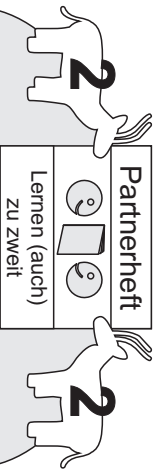
Lies die 11 Aufgaben vorlesen.  
Partnern die anderen Aufgaben  
Partners / deiner  
Partners / deiner  
Partners / deiner  
Partners / deiner  
Partners / deiner  
Partners / deiner  
Partners / deiner  
Partners / deiner  
Partners / deiner  
Partners / deiner

2 jeft  
2 jep suielemuie  
unz uebagunlaunjeil



<b>A</b>	Wie viel ist 4 geteilt durch 2?	2
<b>B</b>	Wie viel ist 12 geteilt durch 2?	6
<b>C</b>	Wie viel ist 8 geteilt durch 2?	4
<b>D</b>	Wie viel ist 18 geteilt durch 2?	9

1a



Teilaufgaben zum Einmaleins der 2 Heft 2

Lies deinem Partner / deiner Partnerin die 11 Aufgaben auf den folgenden 3 Seiten vor und überprüfe, ob seine / ihre Antworten richtig sind. Drehe anschließend das Heft um und lass dir dann von deinem Partner / deiner Partnerin die anderen 11 Aufgaben vorlesen.

# B

<b>E</b>	Wie viel ist 2 geteilt durch 2?	1
<b>F</b>	wie viel ist 16 geteilt durch 2?	8
<b>G</b>	Wie viel ist 0 geteilt durch 2?	0
<b>H</b>	Wie viel ist 10 geteilt durch 2?	5

2a

<b>A</b>	Wie viel ist 6 geteilt durch 2?	3
<b>B</b>	Wie viel ist 10 geteilt durch 2?	5
<b>C</b>	Wie viel ist 0 geteilt durch 2?	0
<b>D</b>	Wie viel ist 16 geteilt durch 2?	8

1b

<b>E</b>	Wie viel ist 4 geteilt durch 2?	2
<b>F</b>	Wie viel ist 20 geteilt durch 2?	10
<b>G</b>	Wie viel ist 8 geteilt durch 2?	4
<b>H</b>	Wie viel ist 12 geteilt durch 2?	6

2b

<b>I</b>	Wie viel ist 6 geteilt durch 2?	3
<b>J</b>	Wie viel ist 14 geteilt durch 2?	7
<b>K</b>	Wie viel ist 20 geteilt durch 2?	10

3a

Ende

6	durch 2 geteilt ist 18	<b>K</b>
2	durch 2 geteilt ist 4	<b>J</b>
1	durch 2 geteilt ist 2	<b>I</b>

qc

epuq