


Laufzettel - Rund um den Tausender -

Welche Zahl ist hier abgebildet?



?

Ist es mehr, weniger, oder gleich viel?
Schreibe so: > < =




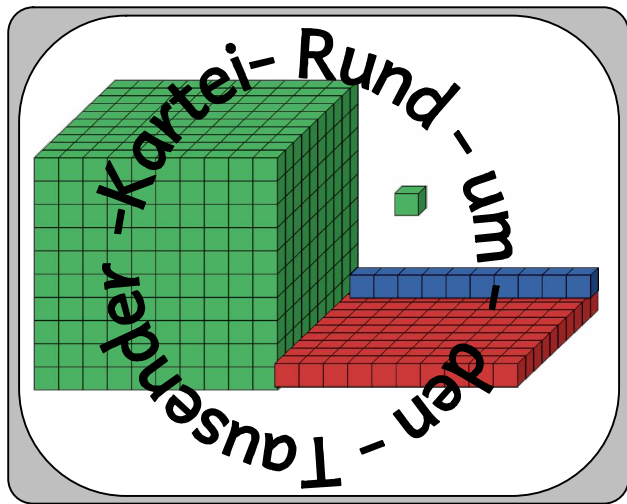
Wie viel sind es noch?



Wie viel ist es zusammen?



Mengenerfassung					Größenvergleich					Addition					Subtraktion				
1	2	3	4	5	1	2	3	4	5	1	2	3	4	5	1	2	3	4	5
6	7	8	9	10	6	7	8	9	10	6	7	8	9	10	6	7	8	9	10
11	12	13	14	15	11	12	13	14	15	11	12	13	14	15	11	12	13	14	15
16	17	18	19	20	16	17	18	19	20	16	17	18	19	20	16	17	18	19	20
21	22	23	24	25	21	22	23	24	25	21	22	23	24	25	21	22	23	24	25
26	27	28	29	30	26	27	28	29	30	26	27	28	29	30	26	27	28	29	30
31	32	33	34	35	31	32	33	34	35	31	32	33	34	35	31	32	33	34	35
36	37	38	39	40	36	37	38	39	40	36	37	38	39	40	36	37	38	39	40



Welche Zahl ist hier abgebildet?

? _____

1

Lösung: 325

Welche Zahl ist hier abgebildet?

? _____

2

Lösung: 767

Welche Zahl ist hier abgebildet?

? _____

3

Lösung: 193

Welche Zahl ist hier abgebildet?

? _____

4

Lösung: 486

Welche Zahl ist hier abgebildet?

? _____

5

Lösung: 269

Welche Zahl ist hier abgebildet?

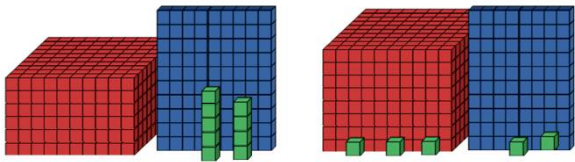
? _____

6

Lösung: 634

Ist es mehr, weniger, oder gleich viel?

Schreibe so: ...> , = , < ...

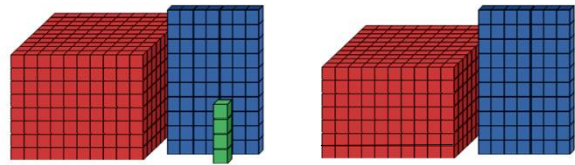


14

Lösung: 699 < 885

Ist es mehr, weniger, oder gleich viel?

Schreibe so: ...> , = , < ...

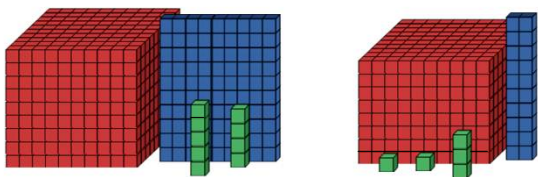


15

Lösung: 874 > 770

Ist es mehr, weniger, oder gleich viel?

Schreibe so: ...> , = , < ...

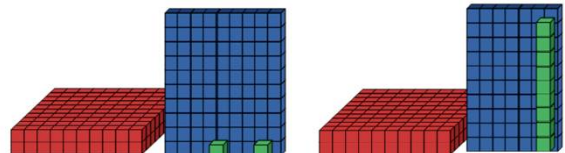


16

Lösung: 999 > 825

Ist es mehr, weniger, oder gleich viel?

Schreibe so: ...> , = , < ...

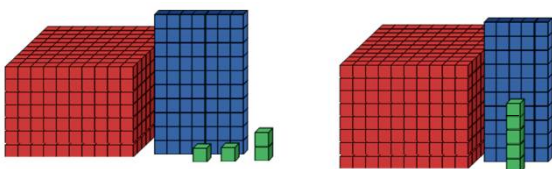


17

Lösung: 292 > 279

Ist es mehr, weniger, oder gleich viel?

Schreibe so: ...> , = , < ...

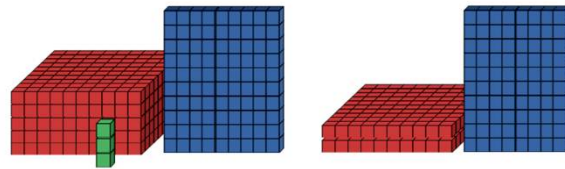


18

Lösung: 774 < 855

Ist es mehr, weniger, oder gleich viel?

Schreibe so: ...> , = , < ...

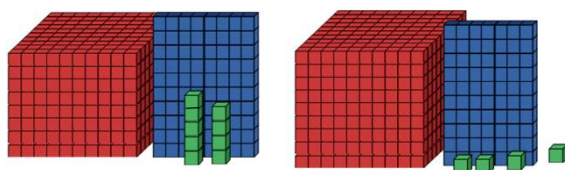


19

Lösung: 593 > 280

Ist es mehr, weniger, oder gleich viel?

Schreibe so: ...> , = , < ...

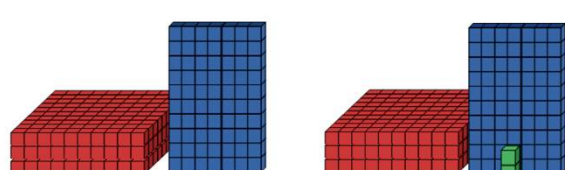


20

Lösung: 889 < 974

Ist es mehr, weniger, oder gleich viel?

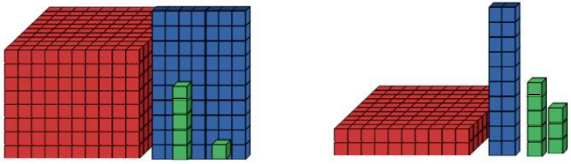
Schreibe so: ...> , = , < ...



21

Lösung: 370 < 372

Wie viel sind es noch?

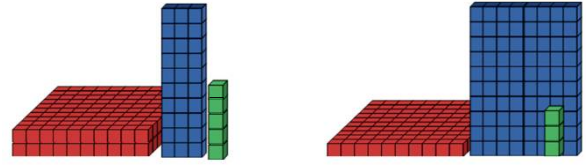


			-				=			
--	--	--	---	--	--	--	---	--	--	--

20

Lösung: $876 - 228 = 648$

Wie viel sind es noch?

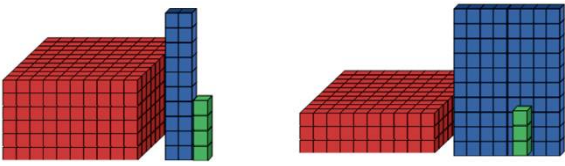


			-				=			
--	--	--	---	--	--	--	---	--	--	--

21

Lösung: $235 - 183 = 52$

Wie viel sind es noch?

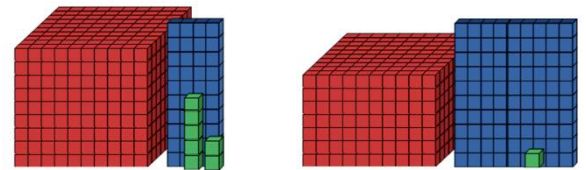


			-				=			
--	--	--	---	--	--	--	---	--	--	--

22

Lösung: $624 - 383 = 241$

Wie viel sind es noch?

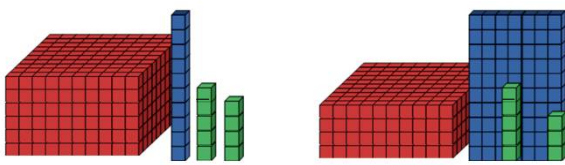


			-				=			
--	--	--	---	--	--	--	---	--	--	--

23

Lösung: $917 - 791 = 156$

Wie viel sind es noch?

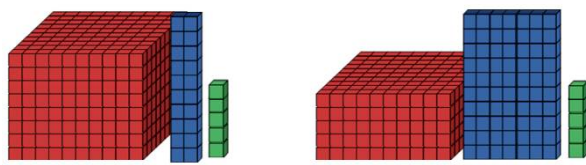


			-				=			
--	--	--	---	--	--	--	---	--	--	--

24

Lösung: $619 - 478 = 141$

Wie viel sind es noch?

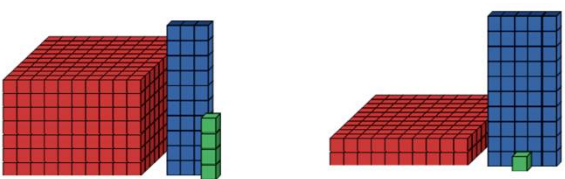


			-				=			
--	--	--	---	--	--	--	---	--	--	--

25

Lösung: $825 - 575 = 250$

Wie viel sind es noch?

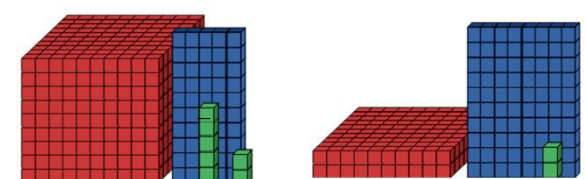


			-				=			
--	--	--	---	--	--	--	---	--	--	--

26

Lösung: $734 - 251 = 483$

Wie viel sind es noch?



			-				=			
--	--	--	---	--	--	--	---	--	--	--

27

Lösung: $957 - 282 = 675$