



Name: _____

Klasse: _____

Datum: _____

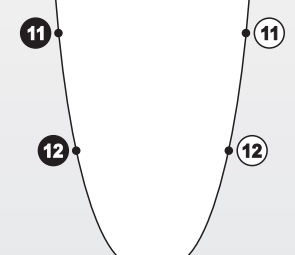
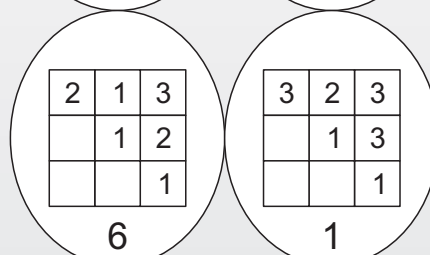

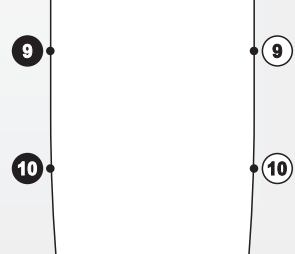
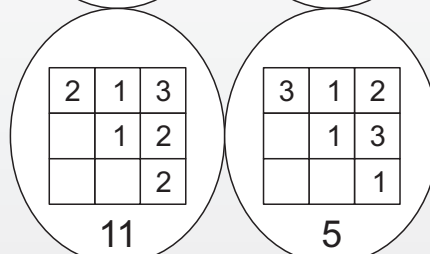

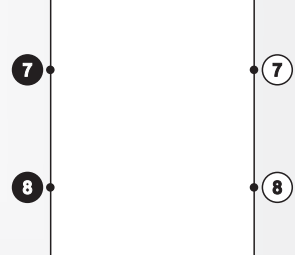
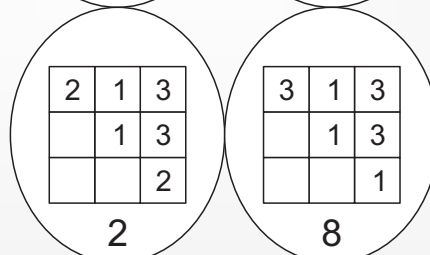
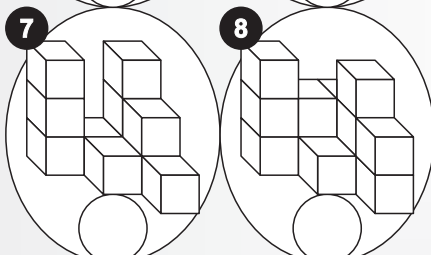
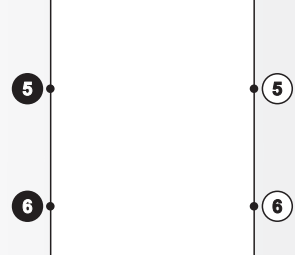
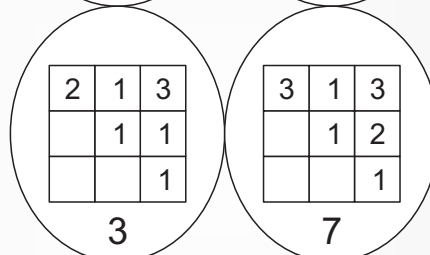
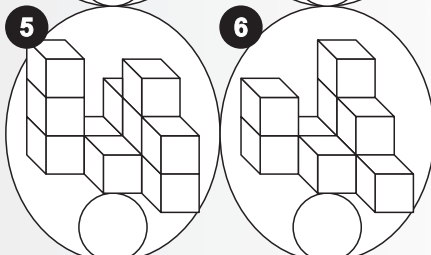

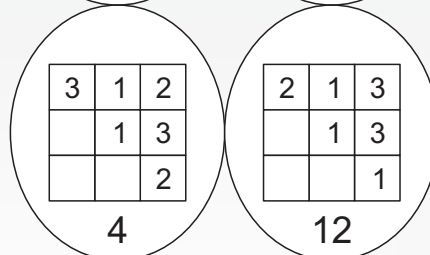
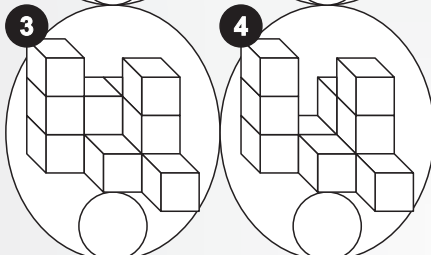
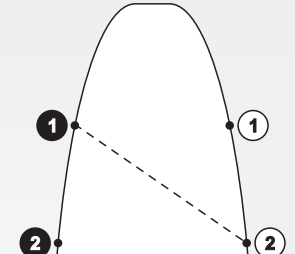
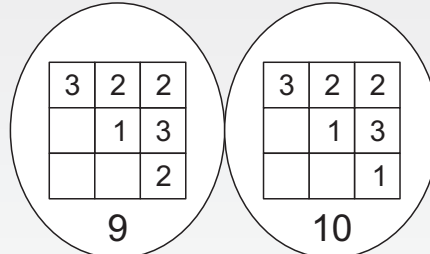
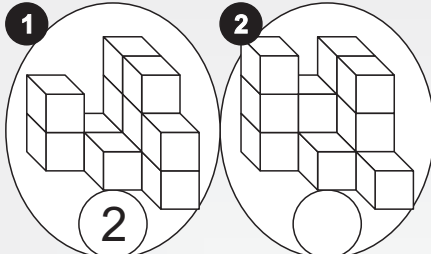
Welcher Bauplan gehört zum Würfelturm? 1

Suche zu jedem Würfelturm von 1 bis 12 den passenden Bauplan! Schreibe die Lösungszahl in das Feld unter der Aufgabe! Ziehe im Kontrollbild mit Lineal und Bleistift eine gerade Linie von der Aufgabennummer zur Lösungszahl! Male das Kontrollmuster farbig aus!

Würfeltürme

Baupläne

Kontrollbild





Name: _____

Klasse: _____

Datum: _____

Welcher Bauplan gehört zum Würfelturm? 1 (L)

Suche zu jedem Würfelturm von 1 bis 12 den passenden Bauplan! Schreibe die Lösungszahl in das Feld unter der Aufgabe! Ziehe im Kontrollbild mit Lineal und Bleistift eine gerade Linie von der Aufgabennummer zur Lösungszahl! Male das Kontrollmuster farbig aus!

Würfeltürme

Baupläne

Kontrollbild

