

Name: _____

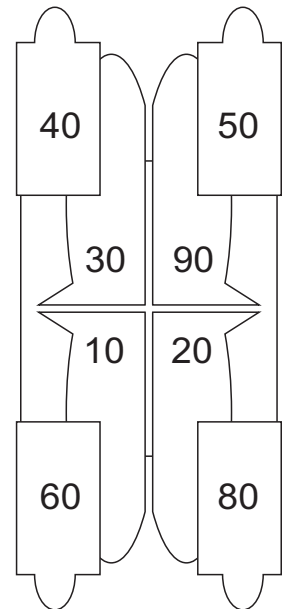
Datum: _____

18. Kettenaufgaben mit Zehnerzahlen

A rot 30 plus 60 minus 40	E rot 70 minus 50 plus 20
B gelb 80 minus 20 minus 40	F gelb 20 plus 40 plus 30
C rot 50 plus 10 plus 20	G rot 70 plus 20 minus 30
D gelb 90 minus 70 plus 10	H gelb 90 minus 30 minus 50

Kontrollbild

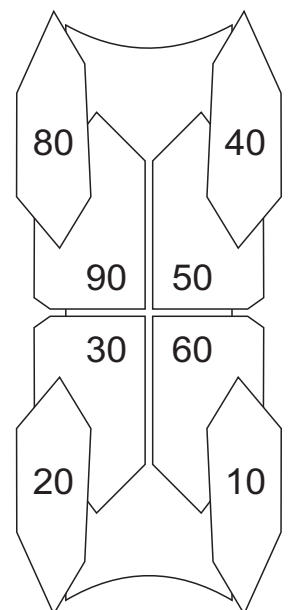
A bis **H**



I rot 20 plus 50 minus 10	M rot 60 minus 50 plus 20
J gelb 90 minus 40 minus 40	N gelb 40 plus 10 plus 30
K rot 30 plus 50 plus 10	O rot 20 plus 60 minus 30
L gelb 80 minus 50 plus 10	P gelb 90 minus 10 minus 60

Kontrollbild

I bis **P**



Löse zuerst die Aufgaben und schreibe die Ergebnisse in die runden Felder!
Dann suche auf dem Kontrollbild die Lösungszahlen!
Male jedes Feld in der angegebenen Farbe aus!

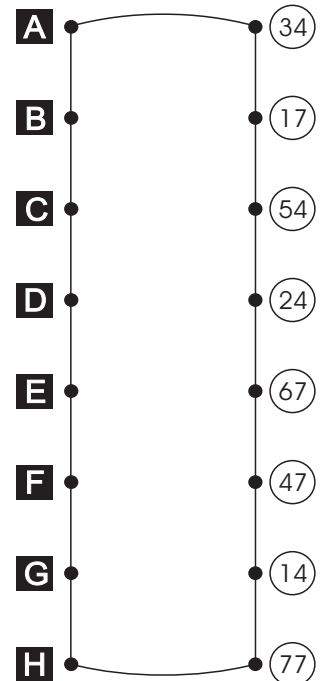
Name: _____

Datum: _____

19. Ergänze richtig!

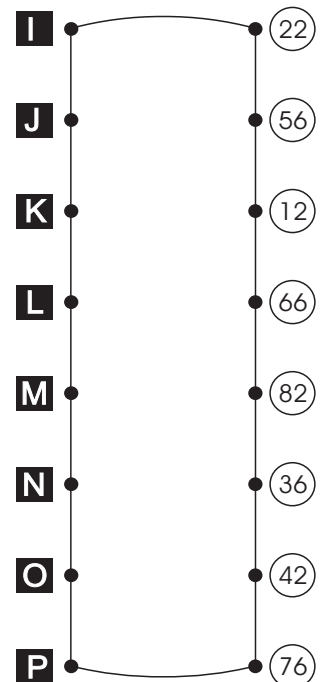
A Wie viele sind es von der 30 bis zur 84? <input type="text"/>	E Wie viele sind es von der 60 bis zur 84? <input type="text"/>
B Wie viele sind es von der 70 bis zur 87? <input type="text"/>	F Wie viele sind es von der 10 bis zur 87? <input type="text"/>
C Wie viele sind es von der 50 bis zur 84? <input type="text"/>	G Wie viele sind es von der 70 bis zur 84? <input type="text"/>
D Wie viele sind es von der 20 bis zur 87? <input type="text"/>	H Wie viele sind es von der 40 bis zur 87? <input type="text"/>

Kontrollbild



I Wie viele sind es von der 80 bis zur 92? <input type="text"/>	M Wie viele sind es von der 50 bis zur 92? <input type="text"/>
J Wie viele sind es von der 30 bis zur 96? <input type="text"/>	N Wie viele sind es von der 20 bis zur 96? <input type="text"/>
K Wie viele sind es von der 70 bis zur 92? <input type="text"/>	O Wie viele sind es von der 10 bis zur 92? <input type="text"/>
L Wie viele sind es von der 40 bis zur 96? <input type="text"/>	P Wie viele sind es von der 60 bis zur 96? <input type="text"/>

Kontrollbild



Löse zuerst die Aufgaben und schreibe die Ergebnisse in die runden Felder!
Dann suche auf dem Kontrollbild die Buchstaben!
Ziehe vom Punkt neben dem Buchstaben zur Lösungszahl mit dem Lineal einen geraden Strich! Am Ende darfst du dein Kontrollbild ausmalen.

Name: _____

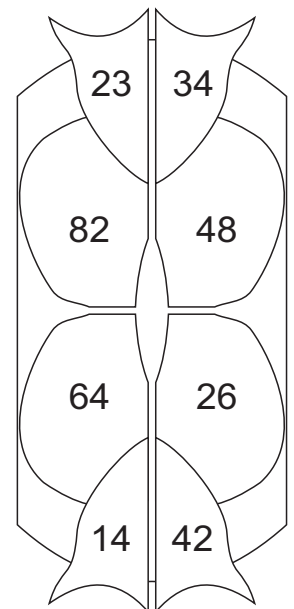
Datum: _____

20. Verdoppeln und Halbieren

A rot	das Doppelte von 32	<input type="text"/>
B gelb	die Hälfte von 84	<input type="text"/>
C rot	das Doppelte von 24	<input type="text"/>
D gelb	die Hälfte von 46	<input type="text"/>
E rot	das Doppelte von 41	<input type="text"/>
F gelb	die Hälfte von 28	<input type="text"/>
G rot	das Doppelte von 13	<input type="text"/>
H gelb	die Hälfte von 68	<input type="text"/>

Kontrollbild

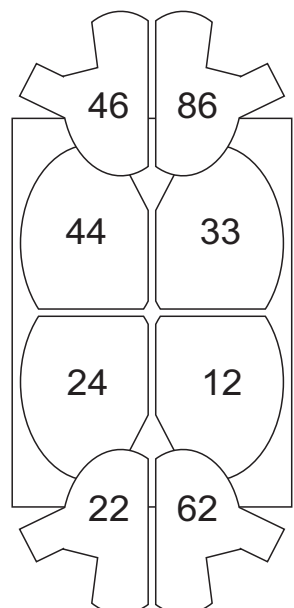
A bis **H**



I rot	das Doppelte von 43	<input type="text"/>
J gelb	die Hälfte von 66	<input type="text"/>
K rot	das Doppelte von 11	<input type="text"/>
L gelb	die Hälfte von 48	<input type="text"/>
M rot	das Doppelte von 31	<input type="text"/>
N gelb	die Hälfte von 88	<input type="text"/>
O rot	das Doppelte von 23	<input type="text"/>
P gelb	die Hälfte von 24	<input type="text"/>

Kontrollbild

I bis **P**



Löse zuerst die Aufgaben und schreibe die Ergebnisse in die ovalen Felder!
Dann suche auf dem Kontrollbild die Lösungszahlen!
Male jedes Feld in der angegebenen Farbe aus!