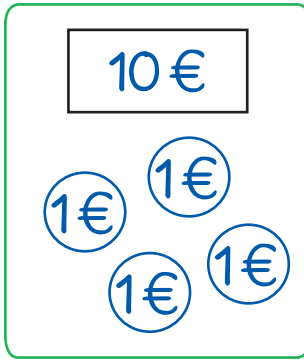




So habe ich gelernt:

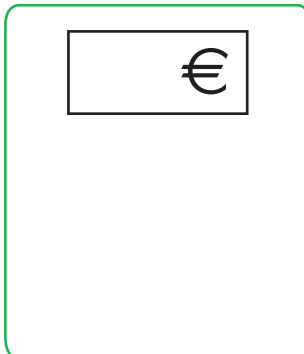




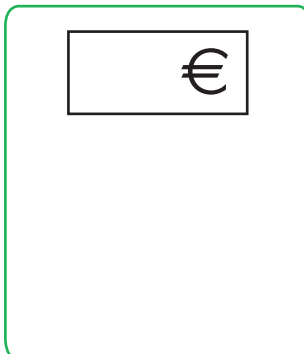
$$10 \text{ €} + 4 \text{ €} = 14 \text{ €}$$



$$\square \text{ €} + \square \text{ €} = \square \text{ €}$$




$$\square \text{ €} + \square \text{ €} = \square \text{ €}$$



$$\square \text{ €} + \square \text{ €} = \square \text{ €}$$



So habe ich gelernt:





Zehner     Einer

+  =

Zehner     Einer

+  =

Zehner     Einer

+  =

Zehner     Einer

+  =

Zehner     Einer

+  =

Zehner     Einer

+  =



So habe ich gelernt:





### 1 Immer 12.

	$\square + \square = \square$	

### 2 Immer 13.

<div style="border: 1px solid black; padding: 5px; margin-bottom: 5px;"> <input type="checkbox"/> Zehner         </div> <div style="border: 1px solid black; padding: 5px;"> <input type="checkbox"/> Einer         </div>		



So habe ich gelernt:





14		1 Zehner 4 Einer	$10 + 4 =$
12		Zehner  Einer	+ =
10		Zehner  Einer	+ =
18		Zehner  Einer	+ =
13		Zehner  Einer	+ =
11		Zehner  Einer	+ =
20		Zehner  Einer	+ =



So habe ich gelernt:

