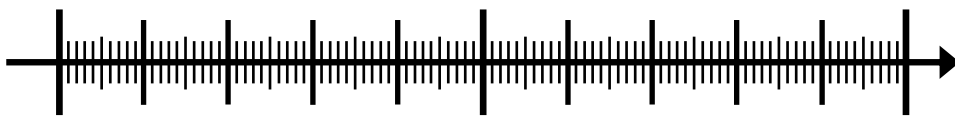



# Mathe mit dem kleinen Professor

## Rund um den Zahlenstrahl



# Mathe mit dem kleinen Professor

Die Kartei besteht aus 40 Aufgaben-Karten mit zahlreichen (gängigen) Übungen rund um den Zahlenstrahl im Zahlenbereich bis 100. Die Übungen sind auf unterschiedlichen Schwierigkeitsstufen und entsprechend gekennzeichnet.  Zu jeder Karte gibt es eine Lösungskarte, sodass ein eigenständiges Kontrollieren denkbar ist.

Mit der Kartei können die Kinder selbstständig Übungen zum Zahlenstrahl bearbeiten. Somit ist die Kartei als Freiarbeitsmaterial einsetzbar und bietet eine optimale Ergänzung zum Mathematik-Buch oder kann als vertiefendes/ differenzierendes Material eingesetzt werden.



1

Kannst du die Zahlen der Reihe nach auf die T-Shirts schreiben?



4

41

20

79

34

57


13

68



3

Springe am Zahlenstrahl.



Springe 10 Mal auf dem Zahlenstrahl und notiere die Zahlen.

ab 10

+4

ab 15

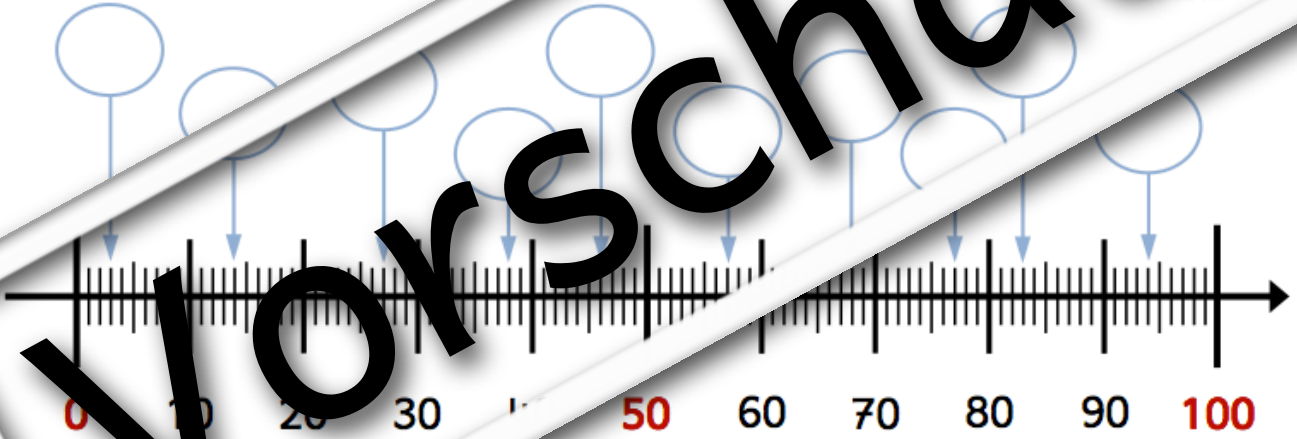
+3

ab 60

+2

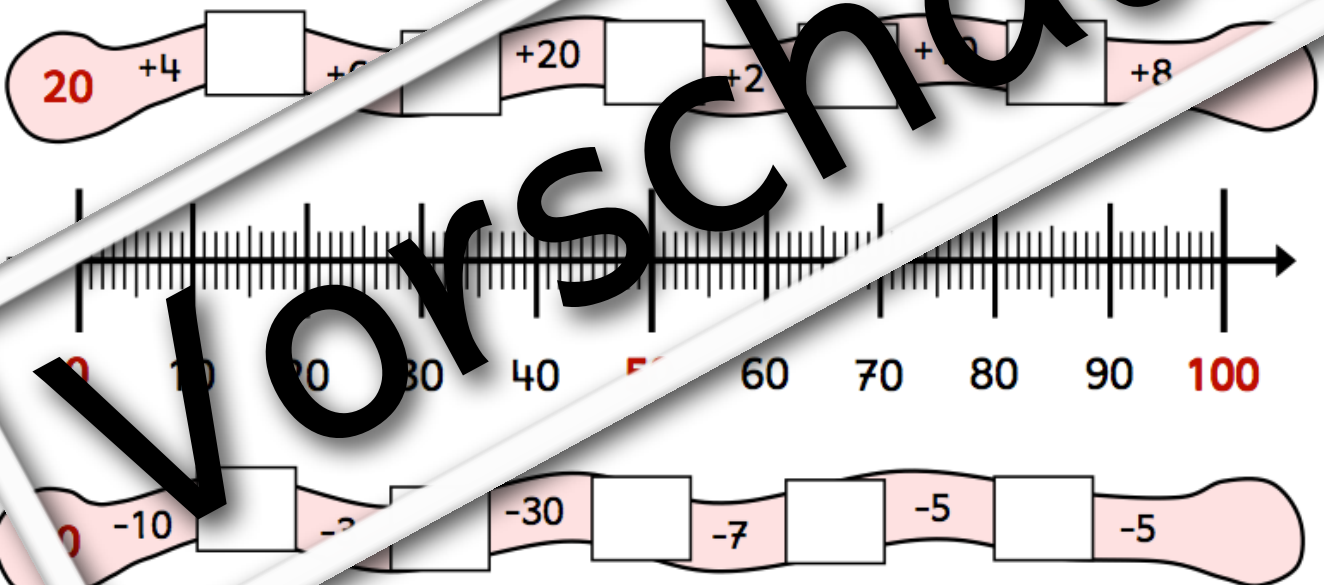

6

Kannst du die Zahlen ablesen?



13

Löse die Aufgaben mit Hilfe des Zahlenstrahls



19

Verbinde jede Wolke mit der richtigen Stelle am Zahlenstrahl.

13

73

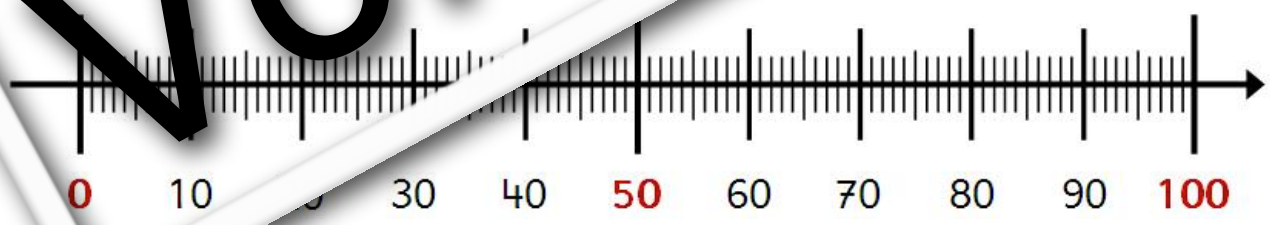
79

90

28

56

81



21

Schreibe die Zahlen in die Kästchen und verbinde mit der richtigen Stelle am Zahlenstrahl.

acht-zehn

sechs-und-vierzig

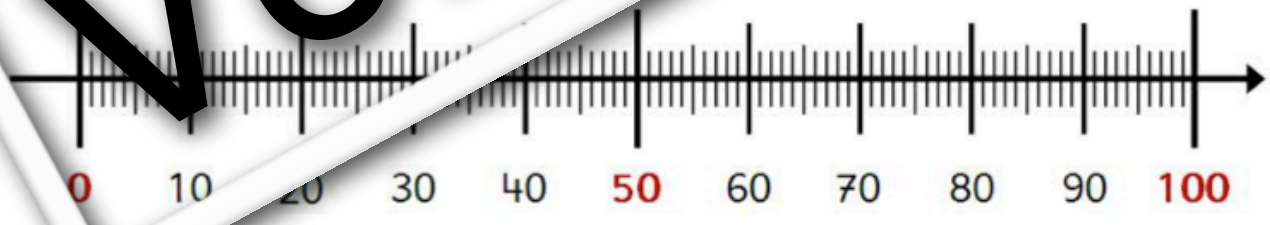
ein-und-siebzig

zwei-und-zwanzig

sieben-und-zwanzig

fünf-und-fünfzig

acht-und-achtzig





26


Auf welcher Zahl wächst die Blume? Schreibe die Zahl in die Blüte.



© matobe-Verlag - Kerstin Breuer & Valessa Sch...

31

Auf welchen Zahlen sitzen die Marienkäfer? Schreibe die Zahlen in die Kästchen.



© matobe-Verlag - Kerstin Breuer & Valessa Sch...