




Hinweise zu den „kunterbunten Rechengeschichten“



Die Kartei umfasst **192 Rechengeschichten** (ohne Text) für die Jahrgangsstufe 1 und deckt die Addition, Subtraktion und das Thema Euro jeweils im Zahlenraum bis 10 und im Zahlenraum bis 20 ab.

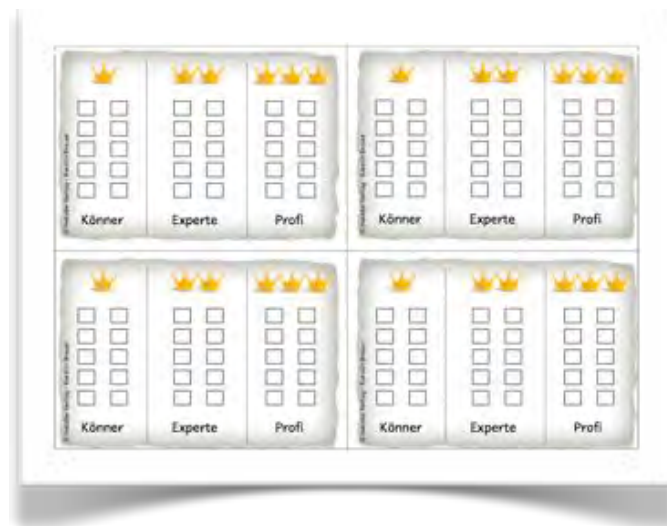
Um im Unterricht differenzieren zu können, sind die Aufgaben in **3 Schwierigkeitsstufen** unterteilt:













 = Könnner

 = Experte

 = Profi

Mit einer Art **Laufzettel** können die Kinder festhalten, wie viele Aufgaben sie vom jeweiligen Schwierigkeitstyp korrekt gelöst haben:



 <input type="checkbox"/> <input type="checkbox"/> <input type="checkbox"/> <input type="checkbox"/> <input type="checkbox"/> <input type="checkbox"/> <input type="checkbox"/> <input type="checkbox"/> <input type="checkbox"/> <input type="checkbox"/> Könnner	 <input type="checkbox"/> <input type="checkbox"/> <input type="checkbox"/> <input type="checkbox"/> <input type="checkbox"/> <input type="checkbox"/> <input type="checkbox"/> <input type="checkbox"/> <input type="checkbox"/> Experte	 <input type="checkbox"/> <input type="checkbox"/> <input type="checkbox"/> <input type="checkbox"/> <input type="checkbox"/> <input type="checkbox"/> <input type="checkbox"/> <input type="checkbox"/> <input type="checkbox"/> Profi	 <input type="checkbox"/> <input type="checkbox"/> <input type="checkbox"/> <input type="checkbox"/> <input type="checkbox"/> <input type="checkbox"/> <input type="checkbox"/> <input type="checkbox"/> <input type="checkbox"/> Könnner	 <input type="checkbox"/> <input type="checkbox"/> <input type="checkbox"/> <input type="checkbox"/> <input type="checkbox"/> <input type="checkbox"/> <input type="checkbox"/> <input type="checkbox"/> <input type="checkbox"/> Experte	 <input type="checkbox"/> <input type="checkbox"/> <input type="checkbox"/> <input type="checkbox"/> <input type="checkbox"/> <input type="checkbox"/> <input type="checkbox"/> <input type="checkbox"/> <input type="checkbox"/> Profi
 <input type="checkbox"/> <input type="checkbox"/> <input type="checkbox"/> <input type="checkbox"/> <input type="checkbox"/> <input type="checkbox"/> <input type="checkbox"/> <input type="checkbox"/> <input type="checkbox"/> Könnner	 <input type="checkbox"/> <input type="checkbox"/> <input type="checkbox"/> <input type="checkbox"/> <input type="checkbox"/> <input type="checkbox"/> <input type="checkbox"/> <input type="checkbox"/> <input type="checkbox"/> Experte	 <input type="checkbox"/> <input type="checkbox"/> <input type="checkbox"/> <input type="checkbox"/> <input type="checkbox"/> <input type="checkbox"/> <input type="checkbox"/> <input type="checkbox"/> <input type="checkbox"/> Profi	 <input type="checkbox"/> <input type="checkbox"/> <input type="checkbox"/> <input type="checkbox"/> <input type="checkbox"/> <input type="checkbox"/> <input type="checkbox"/> <input type="checkbox"/> <input type="checkbox"/> Könnner	 <input type="checkbox"/> <input type="checkbox"/> <input type="checkbox"/> <input type="checkbox"/> <input type="checkbox"/> <input type="checkbox"/> <input type="checkbox"/> <input type="checkbox"/> <input type="checkbox"/> Experte	 <input type="checkbox"/> <input type="checkbox"/> <input type="checkbox"/> <input type="checkbox"/> <input type="checkbox"/> <input type="checkbox"/> <input type="checkbox"/> <input type="checkbox"/> <input type="checkbox"/> Profi



Wenn die Kinder 10 Aufgaben eines Typs richtig gerechnet haben, bekommen sie das entsprechende **Belohnungskärtchen** und sind nun Rechengeschichten Könner, Experte oder Profi.



Um den Kindern eine **Selbstkontrolle** zu ermöglichen, gibt es zu jedem Auftragskärtchen ein Lösungskärtchen für die Rückseite.

Außerdem enthält die Datei **Legematerial**, sodass alle Aufgaben von den Kindern zum besseren Verständnis gelegt werden können.



$$\begin{array}{l} 11 + 3 = 14 \\ 3 + 11 = 14 \end{array}$$

$$\begin{array}{l} 5 + 4 = 9 \\ 4 + 5 = 9 \end{array}$$



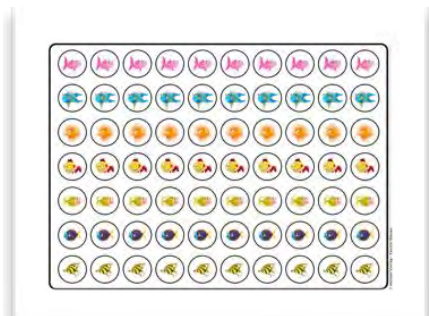


$$6\text{€} + 8\text{€} = 14\text{€}$$

$$8\text{€} + 6\text{€} = 14\text{€}$$

$$4\text{€} + 5\text{€} = 9\text{€}$$

$$5\text{€} + 4\text{€} = 9\text{€}$$





Ich wünsche Ihnen und Ihren Kindern viel Spaß beim Knobeln
und Lösen der Rechengeschichten!





Vorschau

Kunterbunte
Rechenanschichten



Rechenanschichten



Finde passende Plusaufgaben:



Vorschau

$$3 + 2 = 5$$

$$5 + 2 = 7$$

$$2 + 5 = 7$$

$$3 + 2 = 5$$

$$2 + 3 = 5$$


$$3 + 5 = 8$$

$$5 + 3 = 8$$


$$4 + 2 = 6$$

$$2 + 4 = 6$$

Vorschau




© matobe-Verlag - Kerstin Breuer



© matobe-Verlag - Kerstin Breuer



© matobe-Verlag - Kerstin Breuer



© matobe-Verlag - Kerstin Breuer


Wortschau

Finde passende Minusaufgaben:



Vorschau


$$5 - 2 = 3$$




© matobe-Verlag - Kerstin Breuer



© matobe-Verlag - Kerstin Breuer



© matobe-Verlag - Kerstin Breuer



© matobe-Verlag - Kerstin Breuer

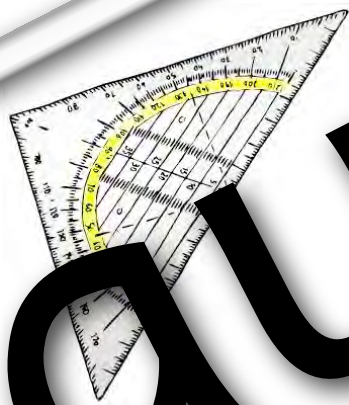
Wortschau

Vorsschau



3 €

© matobe-Verlag - Kerstin Breuer




2 €

© matobe-Verlag - Kerstin Breuer



4 €

© matobe-Verlag - Kerstin Breuer



8 €

© matobe-Verlag - Kerstin Breuer

Wie viel musst du bezahlen?



3€



5€

Vorschau

$$3€ + 5€ = 8€$$



© matobe-Verlag - Kerstin Breuer



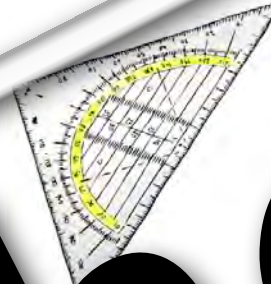
3 €




5 €



© matobe-Verlag - Kerstin Breuer



2 €



7 €



© matobe-Verlag - Kerstin Breuer




6 €



2 €



© matobe-Verlag - Kerstin Breuer



8 €



1 €

Wortschau

Wie viel Geld hast du übrig?



Vorschnau

$$10\text{€} - 9\text{€} = 1\text{€}$$



© matobe-Verlag - Kerstin Breuer



8 €



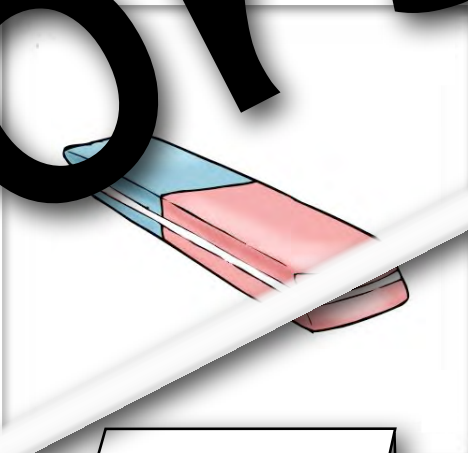
© matobe-Verlag - Kerstin Breuer



4 €



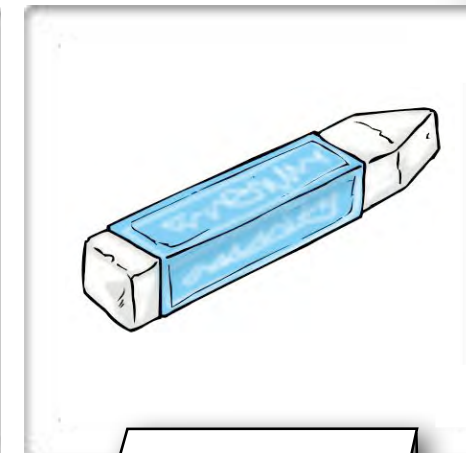
© matobe-Verlag - Kerstin Breuer



1 €




© matobe-Verlag - Kerstin Breuer



2 €

Vorschau

Wie viel Geld hast du insgesamt?



Vorschnau

$$4\text{€} + 5\text{€} = 9\text{€}$$



© matobe-Verlag - Kerstin Breuer



© matobe-Verlag - Kerstin Breuer



© matobe-Verlag - Kerstin Breuer



© matobe-Verlag - Kerstin Breuer



Vorschau

Wie viel hast du aus gegeben?



wether



er

Vorschnau

$$8\text{€} - 2\text{€} = 6\text{€}$$



© matobe-Verlag - Kerstin Breuer



vorher



nachher



© matobe-Verlag - Kerstin Breuer



vorher



nachher



© matobe-Verlag - Kerstin Breuer



vorher



nachher



© matobe-Verlag - Kerstin Breuer



vorher



nachher

VORSCHAU